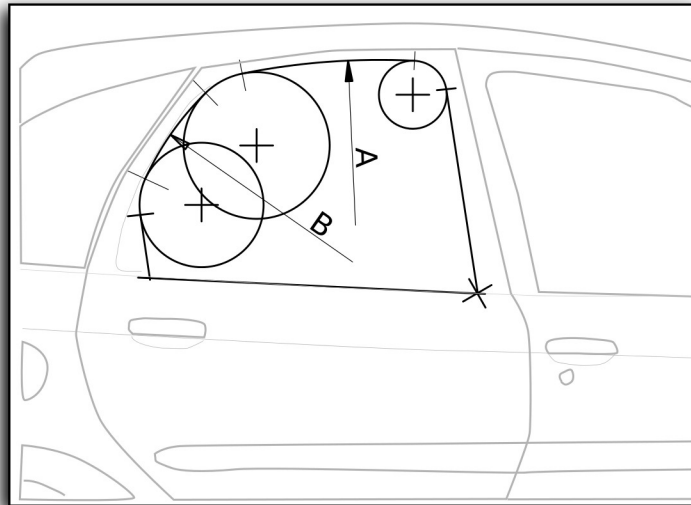


**PRUEBA DE ACCESO A CICLOS FORMATIVOS DE GRADO SUPERIOR
JUNIO 2018
PARTE ESPECÍFICA OPCIÓN B:
DIBUJO TÉCNICO
Duración: 1h 15 minutos**

Ejercicio primero (5 puntos)

Completa el dibujo del siguiente esquema con los enlaces necesarios. Los centros, puntos de tangencia y construcciones utilizadas para obtenerlos deben ser visibles. Las distancias necesarias vienen dadas por los segmentos A y B.



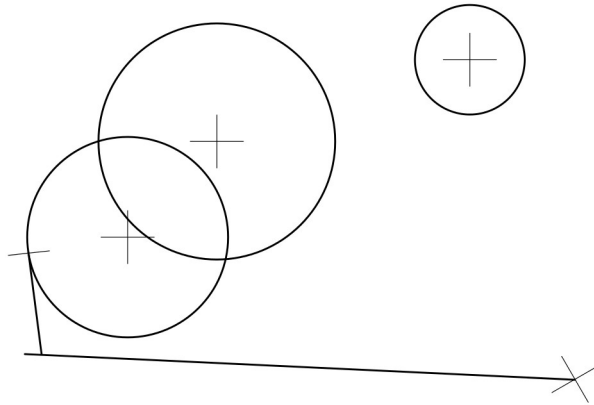
A |-----|

B |-----|

CRITERIOS DE EVALUACIÓN Y CALIFICACIÓN

La calificación de esta parte o apartado se adaptará a lo que establece la Resolución de 13 de febrero de 2018, de la Dirección General de Formación Profesional y Enseñanzas de Régimen Especial, por la que se convocan pruebas de acceso a los ciclos formativos de Formación Profesional (DOGV 13.03.2018).

eneros deben ser visibles.
Las distancias necesarias vienen dadas por los segmentos A y

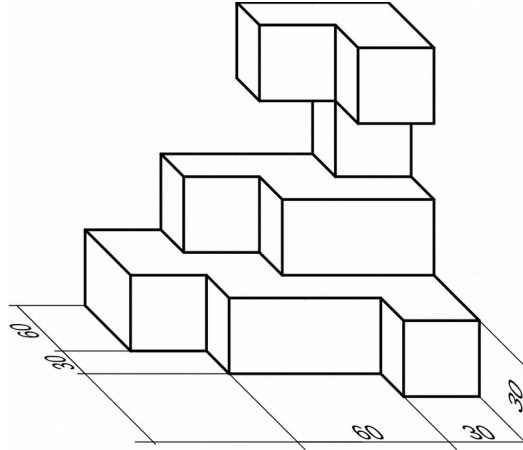


CRITERIOS DE EVALUACIÓN Y CALIFICACIÓN

La calificación de esta parte o apartado se adaptará a lo que establece la Resolución de 13 de febrero de 2018, de la Dirección General de Formación Profesional y Enseñanzas de Régimen Especial, por la que se convocan pruebas de acceso a los ciclos formativos de Formación Profesional (DOGV 13.03.2018).

Ejercicio segundo (5 puntos)

Dibuja las vistas diédricas de la figura siguiente a escala 1:2. La pieza está parcialmente acotada, debes deducir la resta de las medidas a partir de las dadas.



CRITERIOS DE EVALUACIÓN Y CALIFICACIÓN

La calificación de esta parte o apartado se adaptará a lo que establece la Resolución de 13 de febrero de 2018, de la Dirección General de Formación Profesional y Enseñanzas de Régimen Especial, por la que se convocan pruebas de acceso a los ciclos formativos de Formación Profesional (DOGV 13.03.2018).